









45. PODLE ČÍSLICE VYBARVI SPRÁVNÝ POČET KOLEČEK.

1	
2	
3	
4	
5	
6	
7	
8	

ODPOVÍDEJ NA OTÁZKY:

1. KTERÁ ČÍSLICE JE NEJVYŠŠÍ?
2. KTERÁ ČÍSLICE JE NEJNIŽŠÍ?
3. KTERÁ ČÍSLICE JE VYŠŠÍ NEŽ 5?
4. KTERÁ ČÍSLICE JE NIŽŠÍ NEŽ 5?
5. KTERÁ ČÍSLICE JE HNEĎ PŘED 8?
6. KTERÉ ČÍSLICE JSOU ZA 5?
7. KTERÁ ČÍSLICE JE VYŠŠÍ NEŽ 6 A NIŽŠÍ NEŽ 8?
8. KTERÁ ČÍSLICE JE NIŽŠÍ NEŽ 4 A VYŠŠÍ NEŽ 2?